

Educación Primaria / Nivel 1

Lectura: VISITA



La Ciudad de las Artes y las Letras de Valencia

Pablo va a realizar una visita con sus padres a la Ciudad de las Artes y las Ciencias y están muy interesados en ver el Oceanográfico. Han recogido un folleto con información para preparar la visita.

Toda la información que se recoge en esta actividad está recogida de la página web del sitio oficial de la Ciudad de las Artes y las Ciencias. www.cac.es

El horario

- 1. Pablo ha recortado del folleto parte de la información de horarios del Oceanográfico.

	Fechas	De domingo a viernes	Sábados
Temporada baja	del 01/01 al 13/06 del 12/09 al 31/12	10h. a 18h.	10h. a 20 h.
Temporada media	del 14/06 al 15/07 del 01/09 al 10/09	10h. a 20h.	10h. a 20h.
Temporada alta	del 16/07 al 31/08	10h. a 24h.	10h. a 24 h.

Completa el siguiente texto.

Si viajamos en las vacaciones del de agosto, el horario es desde las de la mañana hasta las 12 de la . Si el viaje lo hacemos en las vacaciones de finales de marzo, el horario es de las 10 de la a las de la tarde; pero si vamos un de marzo, el es hasta las 8 de la tarde.

El precio

3. Sara se ha dado cuenta de que tiene el carné joven y han decidido llevarse a sus dos abuelos pensionistas.

	Adulto	Reducida
Conjunta	31,60 €	24,00 €

REDUCIDA

- Niños de 4 a 12 años. Entrada gratuita para niños de 0 a 3 años.
- Personas mayores de 65 años y/o jubilados, presentando el documento acreditativo.
- Pensionistas con documento acreditativo.
- Discapacitados con documento acreditativo.

CARNÉ JOVEN Y CARNÉ DE ESTUDIANTES

- Descuento aplicable del 15% sobre la tarifa individual de adulto.

Completa la tabla siguiente y calcula el precio total de la familia si toman la tarifa conjunta.

	Tarifa adulto	Nº de adultos	Tarifa reducida	Nº de personas	Descuento	Total
Padre y madre	<input type="text"/>	<input type="text"/>				<input type="text"/>
Sara	<input type="text"/>	<input type="text"/>			<input type="text"/>	<input type="text"/>
Pablo			<input type="text"/>	<input type="text"/>		<input type="text"/>
Abuelos			<input type="text"/>	<input type="text"/>		<input type="text"/>
Total						<input type="text"/>

El precio

3. Sara se ha dado cuenta de que tiene el carné joven y han decidido llevarse a sus dos abuelos pensionistas.

	Adulto	Reducida
Conjunta	31,60 €	24,00 €

REDUCIDA

- Niños de 4 a 12 años. Entrada gratuita para niños de 0 a 3 años.
- Personas mayores de 65 años y/o jubilados, presentando el documento acreditativo.
- Pensionistas con documento acreditativo.
- Discapacitados con documento acreditativo.

CARNÉ JOVEN Y CARNÉ DE ESTUDIANTES

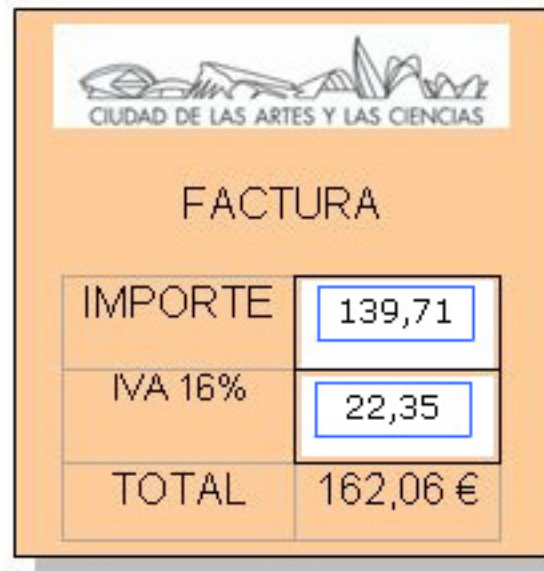
- Descuento aplicable del 15% sobre la tarifa individual de adulto.

Completa la tabla siguiente y calcula el precio total de la familia si toman la tarifa conjunta.

	Tarifa adulto	Nº de adultos	Tarifa reducida	Nº de personas	Descuento	Total
Padre y madre	31,60	2				63,20
Sara	31,60	1			4,74	26,86
Pablo			24	1		24,00
Abuelos			24	2		48,00
Total						162,06

- 4. Al pagar la factura se han dado cuenta de que en los precios está el IVA añadido.

Si dicho impuesto es el 16%, ¿cuál es el importe de la factura sin el IVA?(Idea: recuerda que el total se aplica calculando el 116% del importe).



Logo of Ciudad de las Artes y las Ciencias

CIUDAD DE LAS ARTES Y LAS CIENCIAS

FACTURA

IMPORTE	139,71
IVA 16%	22,35
TOTAL	162,06 €

■ 5. Pablo ha buscado información sobre actividades y desea hacer las dos siguientes:



VEN A DORMIR CON TI BURONES Y ALUNA CON LO QUE APRENDES

Viernes
20:00h: llegada del grupo y presentación de la actividad.
20:30h: cena en el Oceanográfico.
22:00h: actividad nocturna.
23:30h: dormir con tiburones.

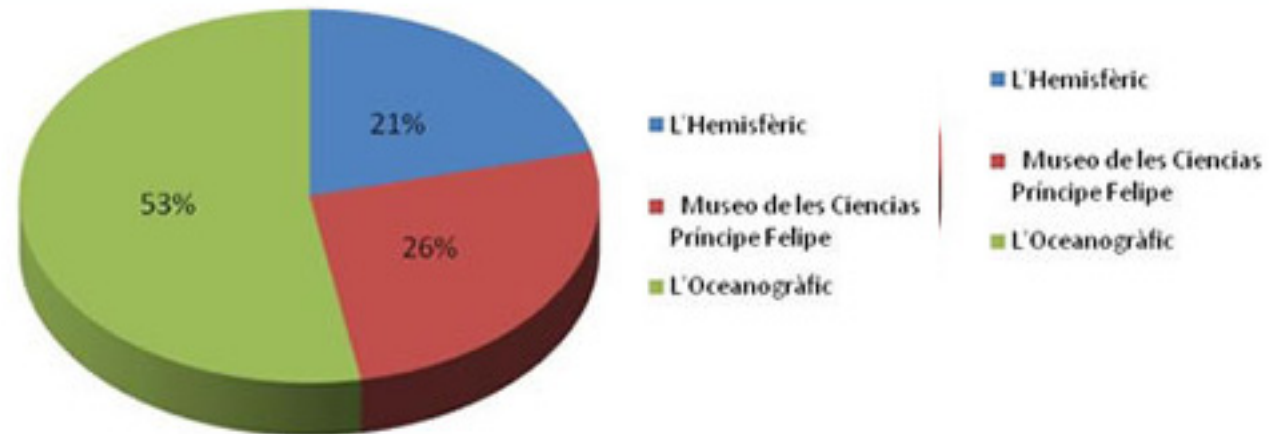
Sábado
8:00h: todos en pie.
8:30h: desayuno.
10:00h: visita libre por el Oceanográfico

Arrastra cada palabra a su lugar.

Hay que llegar el **viernes** a las 8 de la **tarde** para hacer la actividad de **dormir** con tiburones. Se cena a las **ocho** y media y después de una **actividad** nocturna se duerme con tiburones a las **once** y media. A la mañana siguiente se **desayuna** a las ocho y media y a las diez **finaliza** la actividad. Tenemos una **hora** y 45 minutos hasta empezar el **pasaporte** animalia, que dura hasta la **una** y media de la tarde. Después de comer podemos visitar libremente el oceanográfico.

10 empty light blue rectangular boxes for dragging words.

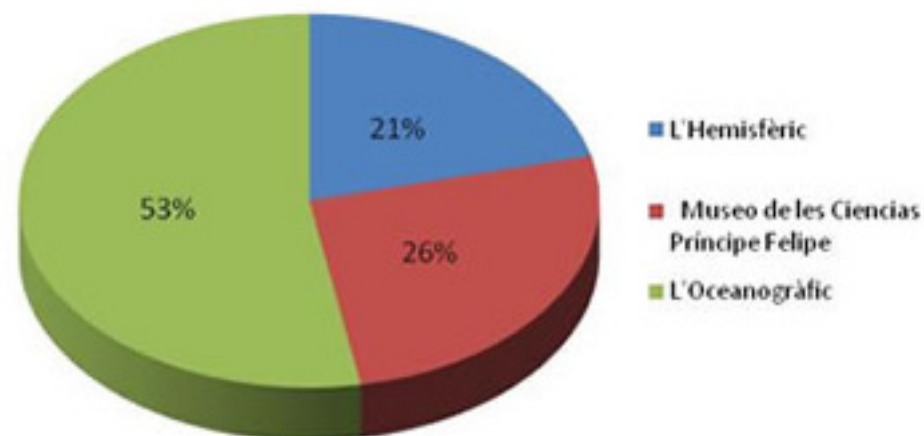
- 6. Las estadísticas del número de visitantes a la Ciudad de las Artes y las Ciencias se recogen en el siguiente diagrama:



Señala si son verdaderas (V) o falsas (F) cada una de las siguientes afirmaciones.

El centro más visitado es el Oceanográfico.	V <input checked="" type="radio"/>	F <input type="radio"/>
El centro menos visitado es el Museo de las Ciencias	V <input type="radio"/>	F <input checked="" type="radio"/>
El número de visitantes del Oceanográfico es 53.	V <input type="radio"/>	F <input checked="" type="radio"/>
El número de visitantes del Hemisferic es 21 por cada 100 visitantes.	V <input checked="" type="radio"/>	F <input type="radio"/>

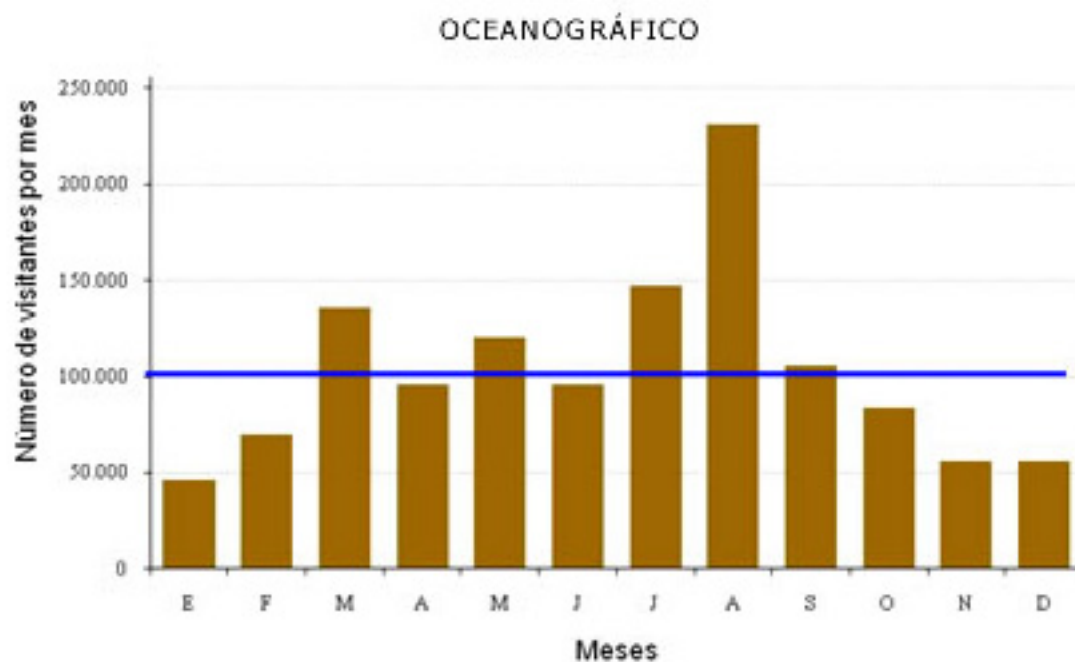
- 7. Las estadísticas del número de visitantes a la Ciudad de las Artes y las Ciencias se recogen en el siguiente diagrama:



Completa la tabla siguiente (redondea a las unidades).

	Porcentaje	Número de visitantes
Hemisfèric	21%	495146
Museo de las Ciencias	26%	613038
Oceanogràfic	53%	1249654
Total	100%	2357838

- 8. En el siguiente diagrama se recoge el número de visitantes por mes del Oceanográfico.



Mes	Nº de visitantes
E	46.658
F	69.863
M	135.631
A	95.671
M	120.397
J	96.248
J	147.600
A	230.904
S	105.819
O	83.969
N	56.336
D	56.385
Media	103.790

Completa las siguientes frases.

- a) Los tres meses en los que ha habido más visitantes han sido:

agosto

julio

marzo

- b) La línea azul del gráfico representa la

- c) El número de meses que están por encima de la media son