

## Educación Primaria / Nivel 1

### Lectura: VISITA



**La Ciudad de las Artes y las Letras de Valencia**

Pablo va a realizar una visita con sus padres a la Ciudad de las Artes y las Ciencias y están muy interesados en ver el Oceanográfico. Han recogido un folleto con información para preparar la visita.

Toda la información que se recoge en esta actividad está recogida de la página web del sitio oficial de la Ciudad de las Artes y las Ciencias. [www.cac.es](http://www.cac.es)

## El horario

- 1. Pablo ha recortado del folleto parte de la información de horarios del Oceanográfico.

	Fechas	De domingo a viernes	Sábados
Temporada baja	del 01/01 al 13/06 del 12/09 al 31/12	10h. a 18h.	10h. a 20 h.
Temporada media	del 14/06 al 15/07 del 01/09 al 10/09	10h. a 20h.	10h. a 20h.
Temporada alta	del 16/07 al 31/08	10h. a 24h.	10h. a 24 h.

### Completa el siguiente texto.

Si viajamos en las vacaciones del  de agosto, el horario es desde las  de la mañana hasta las 12 de la . Si el viaje lo hacemos en las vacaciones de finales de marzo, el horario es de las 10 de la  a las  de la tarde; pero si vamos un  de marzo, el  es hasta las 8 de la tarde.

## El precio

- 2. La familia de Pablo la componen el padre, la madre, Pablo que tiene 11 años y su hermana Sara, 17 años.

Consulta los precios, que están en la siguiente tabla, y asocia mediante flechas cada frase con una cantidad y completa.

	Adultos	Reducida			
Hemisférico	7.50 €	5.80 €	<b>REDUCIDA</b> - Niños de 4 a 12 años. Entrada gratuita para niños de 0 a 3 años. - Personas mayores de 65 años y / o jubilados presentando el documento acreditativo. - Pensionistas con documento acreditativo. - Discapacitados con documento acreditativo.  <b>CARNÉ JOVEN Y CARNÉ DE ESTUDIANTES</b> Descuento aplicable del 15% sobre la tarifa individual de adulto.  <b>FAMILIAS NUMEROSAS CON DOCUMENTO ACREDITATIVO</b> Descuento aplicable del 15% sobre la tarifa individual de adulto.	Si visitan sólo el Oceanográfico, el precio es...	89,7 €
Museo de las Ciencias	7.50 €	5.80 €		Si visitan sólo el Museo de las Ciencias, el precio es...	28,3 €
Oceanográfico	23.90 €	18.00 €		Si visitan el Hemisférico y cogen un pase para el Museo de las Ciencias y el Oceanográfico, el precio es...	118,8 €
Conjunta <small>Válida para uno, dos o tres días, consecutivos o no, sin posibilidad de repetir la visita al mismo elemento en días diferentes. Imprescindible indicar la fecha.</small>	31.60 €	24.00 €		Si visitan el Museo de las Ciencias y el Oceanográfico, el precio es...	126 €
<b>Pase Anual</b> <small>Con tu Pase Anual podrás repetir tu visita a los tres recintos tantas veces como quieras.</small>	75.00 €	56.25 €		Si cogen un pase conjunto, el precio es ...	97,7 €
Hemisférico Museo de las ciencias	11.20 €	8.50 €			
Hemisférico Oceanográfico	26.00 €	19.70 €			
Museo de las Ciencias Oceanográfico	26.00 €	19.70 €			

## El precio

3. Sara se ha dado cuenta de que tiene el carné joven y han decidido llevarse a sus dos abuelos pensionistas.

	Adulto	Reducida
Conjunta	31,60 €	24,00 €

REDUCIDA

- Niños de 4 a 12 años. Entrada gratuita para niños de 0 a 3 años.
- Personas mayores de 65 años y/o jubilados, presentando el documento acreditativo.
- Pensionistas con documento acreditativo.
- Discapacitados con documento acreditativo.

CARNÉ JOVEN Y CARNÉ DE ESTUDIANTES

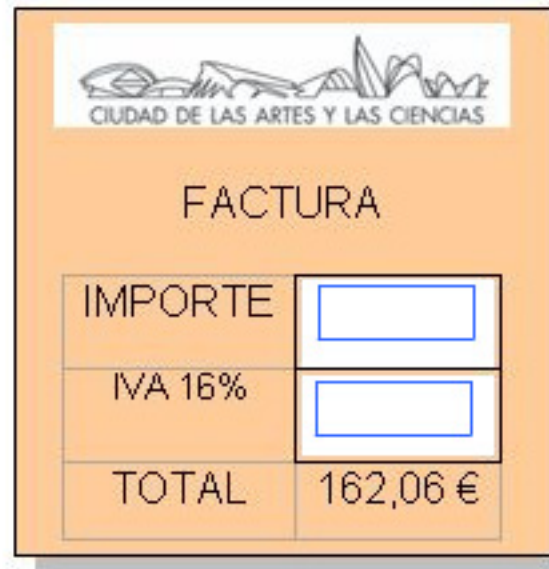
- Descuento aplicable del 15% sobre la tarifa individual de adulto.

Completa la tabla siguiente y calcula el precio total de la familia si toman la tarifa conjunta.

	Tarifa adulto	Nº de adultos	Tarifa reducida	Nº de personas	Descuento	Total
Padre y madre	<input type="text"/>	<input type="text"/>				<input type="text"/>
Sara	<input type="text"/>	<input type="text"/>			<input type="text"/>	<input type="text"/>
Pablo			<input type="text"/>	<input type="text"/>		<input type="text"/>
Abuelos			<input type="text"/>	<input type="text"/>		<input type="text"/>
<b>Total</b>						<input type="text"/>

- 4. Al pagar la factura se han dado cuenta de que en los precios está el IVA añadido.

Si dicho impuesto es el 16%, ¿cuál es el importe de la factura sin el IVA?(Idea: recuerda que el total se aplica calculando el 116% del importe).



CIUDAD DE LAS ARTES Y LAS CIENCIAS

FACTURA

IMPORTE	<input type="text"/>
IVA 16%	<input type="text"/>
TOTAL	162,06 €

■ 5. Pablo ha buscado información sobre actividades y desea hacer las dos siguientes:



**PASAPORTE animalia**

**Fechas:** Sábados y domingos a partir de las 11:45 horas.  
**Duración:** 1:45h aproximadamente.



**Viernes**  
20:00h: llegada del grupo y presentación de la actividad.  
20:30h: cena en el Oceanográfico.  
22:00h: actividad nocturna.  
23:30h: dormir con tiburones.

**Sábado**  
8:00h: todos en pie.  
8:30h: desayuno.  
10:00h: visita libre por el Oceanográfico

finaliza

actividad

una

desayuna

viernes

pasaporte

once

tarde

hora

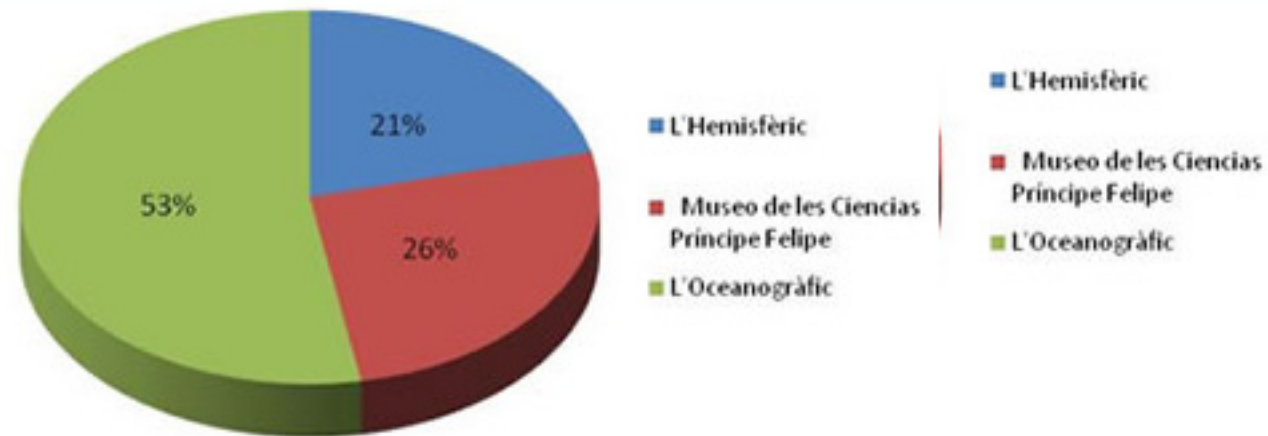
ocho

dormir

**Arrastra cada palabra a su lugar.**

Hay que llegar el  a las 8 de la  para hacer la actividad de  con tiburones. Se cena a las  y media y después de una  nocturna se duerme con tiburones a las  y media. A la mañana siguiente se  a las ocho y media y a las diez  la actividad. Tenemos una  y 45 minutos hasta empezar el  animalia, que dura hasta la  y media de la tarde. Después de comer podemos visitar libremente el oceanográfico.

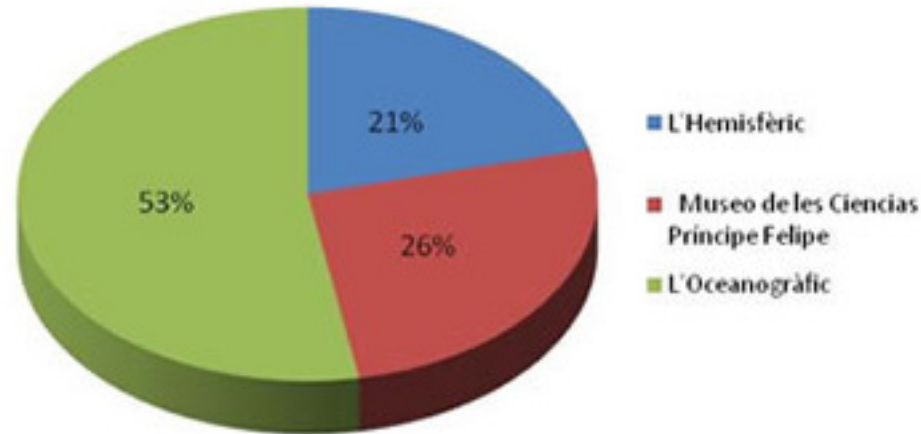
- 6. Las estadísticas del número de visitantes a la Ciudad de las Artes y las Ciencias se recogen en el siguiente diagrama:



Señala si son verdaderas (V) o falsas (F) cada una de las siguientes afirmaciones.

El centro más visitado es el Oceanográfico.	<input type="radio"/> V	<input type="radio"/> F
El centro menos visitado es el Museo de las Ciencias	<input type="radio"/> V	<input type="radio"/> F
El número de visitantes del Oceanográfico es 53.	<input type="radio"/> V	<input type="radio"/> F
El número de visitantes del Hemisferic es 21 por cada 100 visitantes.	<input type="radio"/> V	<input type="radio"/> F

- 7. Las estadísticas del número de visitantes a la Ciudad de las Artes y las Ciencias se recogen en el siguiente diagrama:

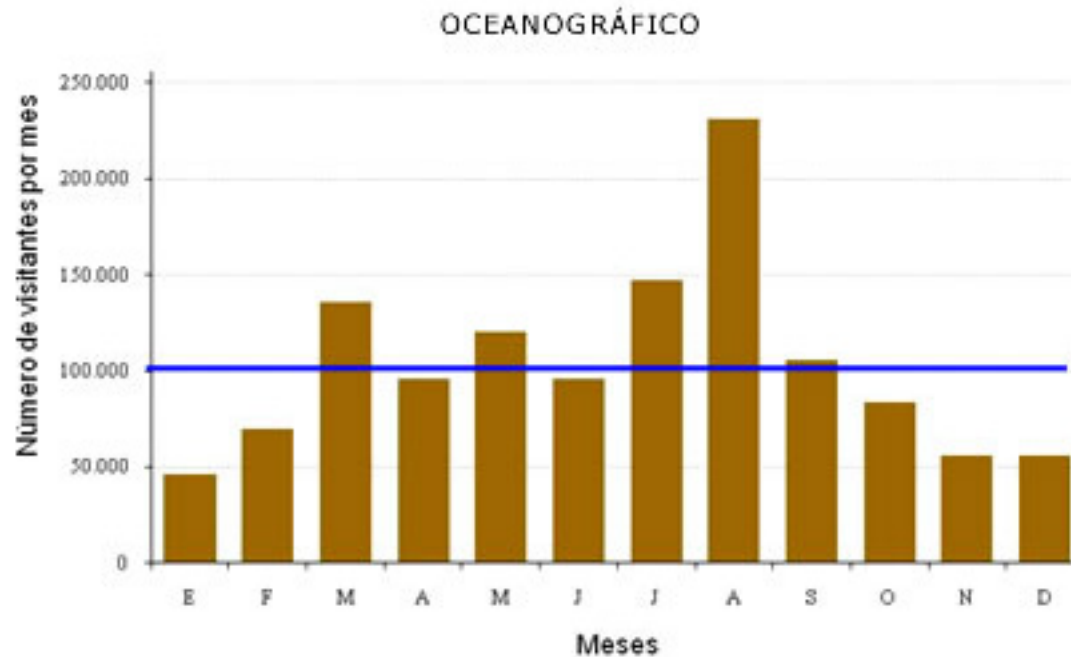


Completa la tabla siguiente (redondea a las unidades).

	Porcentaje	Número de visitantes
Hemisfèric	21%	<input type="text"/>
Museo de las Ciencias	<input type="text"/>	<input type="text"/>
Oceanogràfic	<input type="text"/>	<input type="text"/>
Total	100%	2357838



8. En el siguiente diagrama se recoge el número de visitantes por mes del Oceanográfico.



Mes	Nº de visitantes
E	46.658
F	69.863
M	135.631
A	95.671
M	120.397
J	96.248
J	147.600
A	230.904
S	105.819
O	83.969
N	56.336
D	56.385
<b>Media</b>	<b>103.790</b>

Completa las siguientes frases.

a) Los tres meses en los que ha habido más visitantes han sido:

b) La línea azul del gráfico representa la

c) El número de meses que están por encima de la media son