

## Educación Primaria / Nivel 1

### Lectura: CAMPAMENTO



Sara vive en Aranda de Duero (Burgos) y sus padres han decidido llevarla a pasar unos días en un campamento en El Barraco (Ávila). Sara ha entrado con su padre en una web de itinerarios para preparar el viaje.

**El Barraco (Ávila)**

La información correspondiente a la primera parte de esta actividad se ha adaptado de la página web: [www.viamichelin.es](http://www.viamichelin.es). La información correspondiente a la segunda parte de la actividad se ha adaptado de la página web del ayuntamiento de EL Barraco: [www.elbarraco.org](http://www.elbarraco.org)

## El viaje

- 1. Fíjate en los datos que le pide la web y arrastra al lugar adecuado las localidades de origen y destino.

Localidades de origen y destino.

**Calcule su itinerario**

 **Salida**  
Dirección, estación...  
C.P., ciudad, lugar...  
País

Mis favoritos 

→ Añadir una parada

 **Llegada**  
Dirección, estación...  
C.P., ciudad, lugar...  
País

Mis favoritos 

**España**

**España**

**Aranda de Duero**

**El Barraco**

- 2. Sara ha solicitado un itinerario rápido y uno corto. Completa el siguiente texto ayudándote de los datos que has obtenido para el itinerario rápido.

Datos del itinerario rápido.

### Aranda de Duero – 05110 El Barraco

Coste	36.56 EUR
	Peaje 7.50 EUR   Carburante 29.06 EUR
Tiempo	02h52 01h17 por vías rápidas
Distancia	234 km 139 km por vías rápidas
<input checked="" type="checkbox"/> <a href="#">Mostrar 30 incidentes en este trayecto</a>	



En la ruta más rápida la  es de 234 km de los cuales  km se hacen por vías rápidas y se tiene un  total estimado de 2h 52 min de los que 1 h 17 min se hacen por vías . Se estima un coste  de 36,56 € de los que  € son de peaje y 29,06 de .

■ 3. Los datos que Sara ha obtenido para el itinerario corto son los siguientes:

### Aranda de Duero – 05110 El Barraco

Coste	26.98 EUR
	Peaje 0.00 EUR   Carburante 26.98 EUR
Tiempo	03h34 00h00 por vías rápidas
Distancia	191 km 1.1 km por vías rápidas
<input checked="" type="checkbox"/>	Mostrar 64 incidentes en este trayecto



Señala si es verdadera o falsa cada una de las siguientes afirmaciones.

El coste del peaje es de 26,98 €



La distancia es de 192,1 Km



El coste de carburante es de 26,98 €



El tiempo invertido es de 3 h 34 min



La ruta pasa por Pedraza



4. Completa la siguiente tabla ayudándote de los siguientes datos y de la calculadora y completa las frases.

### Itinerario rápido

Coste	36.56 EUR
	Peaje 7.50 EUR   Carburante 29.06 EUR
Tiempo	02h52 01h17 por vías rápidas
Distancia	234 km 139 km por vías rápidas
	<input checked="" type="checkbox"/> Mostrar 30 incidentes en este trayecto

### Itinerario corto

Coste	26.98 EUR
	Peaje 0.00 EUR   Carburante 26.98 EUR
Tiempo	03h34 00h00 por vías rápidas
Distancia	191 km 1.1 km por vías rápidas
	<input checked="" type="checkbox"/> Mostrar 64 incidentes en este trayecto



	Itinerario rápido	Itinerario corto
Coste del peaje	<input type="text"/>	<input type="text"/>
Coste del carburante	<input type="text"/>	<input type="text"/>
Coste total	36,56 €	<input type="text"/>
Tiempo en vías rápidas	<input type="text"/>	<input type="text"/>
Tiempo en otras vías	<input type="text"/>	<input type="text"/>
Tiempo total	2 h 52 min	<input type="text"/>
Distancia en vías rápidas	<input type="text"/>	<input type="text"/>
Distancia en otras vías	<input type="text"/>	<input type="text"/>
Distancia total	<input type="text"/>	191

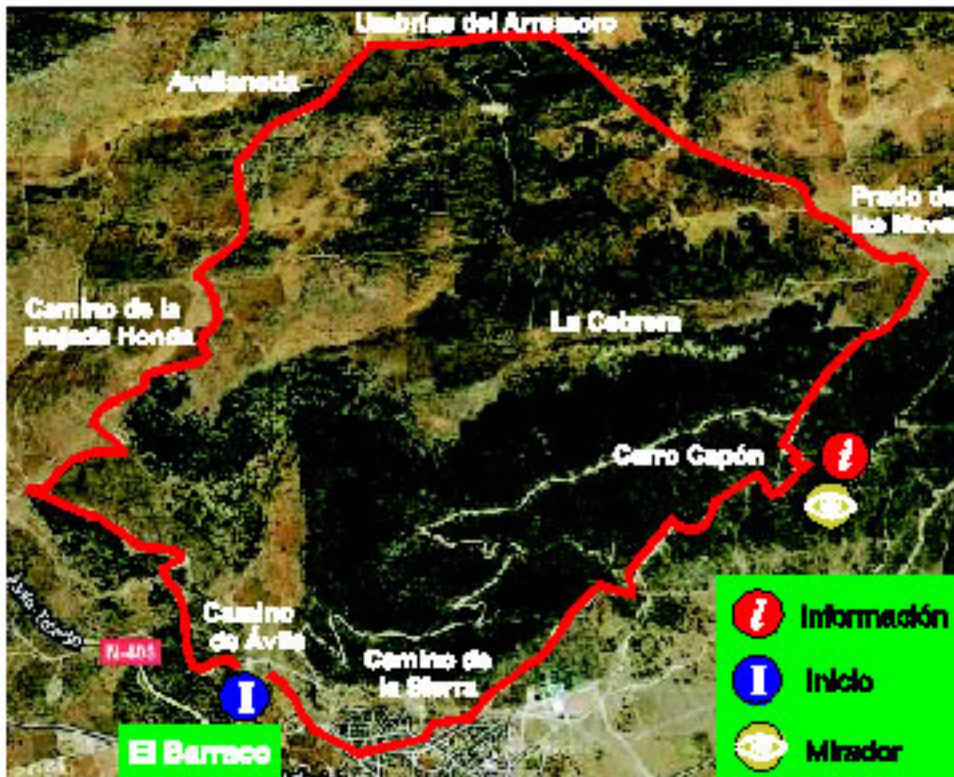
El coste de carburante es  € más caro en el itinerario rápido.

El coste total es  € más barato en el itinerario corto.

El tiempo total es  min menos en el itinerario rápido.

Se recorren  km menos en el itinerario corto.

- 5. Sara ya está en el campamento y han preparado una marcha. Les han dado la siguiente información:



### CAMINO DE LA CEBRERA

Tipo de recorrido: circular

Tiempo: 2 h 30 min

Dificultad: media - baja

Arrastra cada palabra a su lugar.

mirador

circular

información

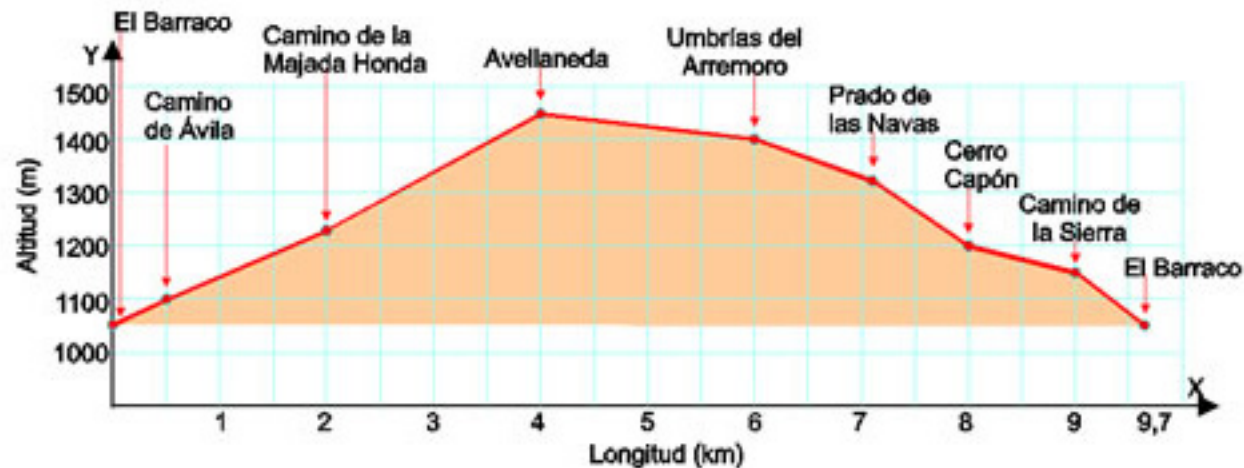
El Barraco

La marcha es de tipo . Comienza en  y finaliza en El Barraco.

Hay un punto de  en Cerro Capón y un  en el mismo lugar.

6. Observa la gráfica que han hecho para la ruta.

Señala si es verdadera (V) o falsa (F) cada una de las siguientes afirmaciones.



c) En la marcha se recorren 9 km 700 m en total.

 V

 F

a) La marcha comienza y termina en El Barraco

 V

 F

d) La Avellaneda está a 1400 m de la salida.

 V

 F

b) El Barraco está a 1000 m de altitud.

 V

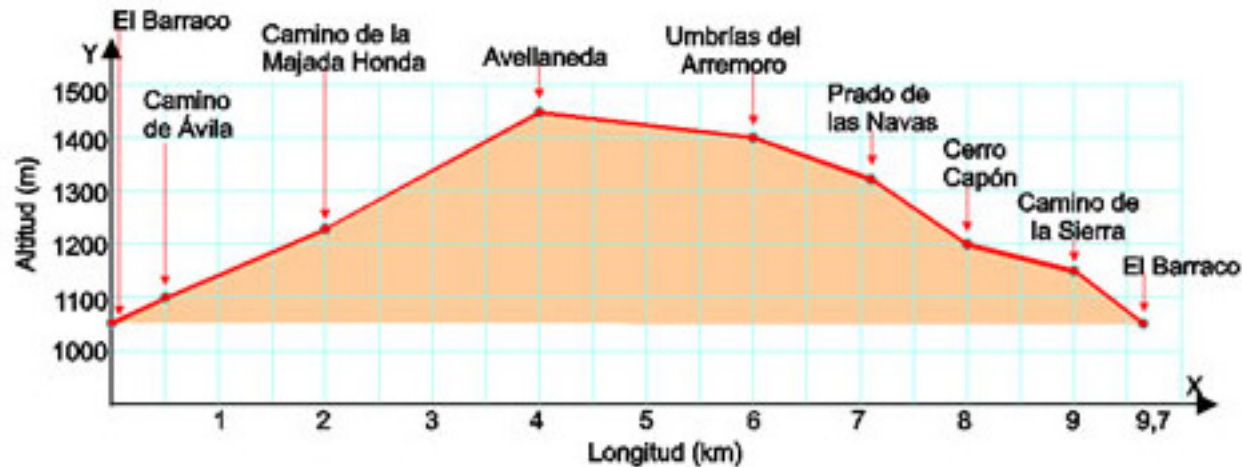
 F

e) Cerro Capón está a 1,7 km del final de la marcha.

 V

 F

7. Observa los datos de la gráfica y completa.



a) El punto más alto está en  a  m.

b) El punto más bajo está en  a  m.

c) En la marcha se ascienden  m.

d) La longitud total de la marcha expresada en metros es  m.

e) El tramo más difícil del camino está entre  y .



- 8. En el mirador, el grupo de Sara se despista y se desvía de la ruta 1,5 km. Recorren otros 0,5 km para volver a la ruta en el punto medio del Cerro Capón y el Camino de la Sierra.

¿Cuántos kilómetros más han recorrido que el resto de compañeros?.

Han recorrido

